

## POIGRAJMO SE S ŠTEVILKAMI

I. Skupino vodijo učitelji matematike.

II. V 80-tih letih 20. st. je Jugoslavijo pretresala močna gospodarska kriza. Vrednost dinarja je vsakodnevno padala.

Naloge:

1. **Grafično prikaži gibanje življenjskega standarda (lahko po posameznih dobrinah ali v skupnem povprečju)**

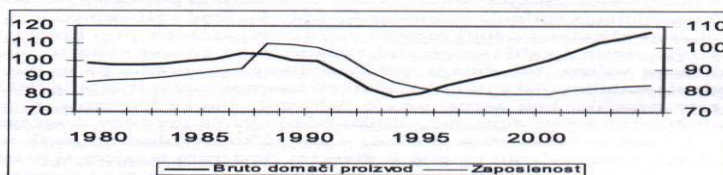
Koliko časa je moral delati zaposleni s povprečno plačo, da si je lahko privoščil nekatere dobrine:

leto	1970	1980	1985	1988	1990	1992	2006	
Črn kruh	12'	10'	13'	5'	21'	22'	25'	1kg
Mleko	13'	9'	14'	10'	15'	15'	7'	1l
Kava	4h58'	8h24'	9h17'	7h21'	3h51'	3h32'	1h32'	1kg
Časopis	4'	7'	7'	11'	13'	13'	10'	Dnevnik
Govedina	2h31'	1h43'	1h39'	1h20'	1h28'	2h33'	1h35'	1kg
Barvni TV	334h	617h	544h	556h	348h	331h	47h	Kos
Moška srajca	9h34'	7h17'	10h17'	10h46'	15h38'	16h57'	11h21'	Bombažna
avtomobil	2294h	1626h	2998h	2909h	2420h	3192h	2824h	Najbolj prodajan

Vir: SURS

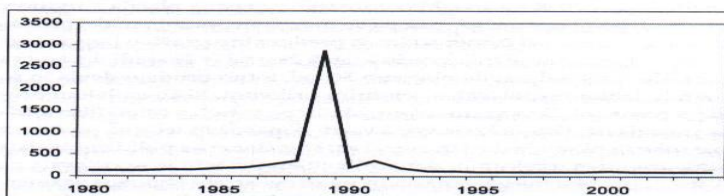
2.

**Slika 9:** Gibanje bruto domačega proizvoda (1989 = 100) in zaposlenosti v Sloveniji (1989 = 100)



Vir: Economic Survey of Europe. New York, United Nations, Secretariat of Economic Commission for Europe, Geneve (različne številke).

**Slika 10:** Gibanje inflacije v Sloveniji (december predhodnega leta = 100)



Vir: Statistični letopis Slovenije 2005.

a) Iz grafa razberi v katerih letih je bruto domači proizvod padal.

b) Kateri politični proces se je takrat odvijal?

c) Iz grafa razberi katerega leta je bila inflacija najvišja?

č) Kaj je inflacija?



d) Ali ima danes Slovenija inflacijo?  
Jugoslovanski denar po odcepitvi Slovenije

### 3. Na kakšen način je Slovenija reševala denarno krizo?



Denarna valuta – dinar v SFRJ



Bankovec za milijon dinarjev iz leta 1989



Slovenski boni (prva in zadnja stran)





Slovenski tolar


### III. OSAMOSVOJITVENA VOJNA ZA SLOVENIJO

#### 1. Prikaži v obliki tabel in grafov razmerja sil:

- pred 26.6.1991
- v času osamosvojitvene vojne
- v času odhoda JLA

V tabelah lahko oborožene sile Republike Slovenije prikažemo v skupnem številu ali pa jih razčlenimo na TO, pripadnike milice in narodno zaščito.


Literatura:

 Gabrič, D. *Guštin in sodelavci: Osamosvojitve Slovenije, priročnik za učitelje*; ZRSS, Ljubljana 2008


#### 2. Kolikšne so bile sile JLA v Sloveniji ob začetku vojne?

Pri prikazu bodite ustvarjalni.

Literatura:

 Gabrič, D. *Guštin in sodelavci: Osamosvojitve Slovenije, priročnik za učitelje*; ZRSS, Ljubljana 2008/ st. 104

#### 3. Zanimivi so podatki o vojnih ujetnikih. Grafično prikaži, kako se je njihovo število povečevalo. Poleg grafa pripravi krajši opis ravnanja z vojnimi ujetniki.

 Literatura: Gabrič, D. *Guštin in sodelavci: Osamosvojitve Slovenije, priročnik za učitelje*; ZRSS, Ljubljana 2008/ st. 125, 126

4. Podatke, ki jih je zbral RK Slovenije prikaži v obliki grafa. Uporabi dve različni barvi (JLA – SLO obrambne sile), da bo graf preglednejši.

**Podatki, ki jih je 7. julija 1991 zbral Rdeči križ Slovenije:**

- ujeti pripadniki JLA: 2405,
- ujeti pripadniki zvezne milice: 131,
- ujete civilne osebe: 3,
- ranjeni pripadniki JLA: 163,
- ranjeni pripadniki TO: 89,
- ranjeni miličniki: 22,
- ranjeni civilisti: 38,
- ranjeni tujci: 1,
- mrtvi pripadniki JLA: 30

5. Tabela prikazuje število pripadnikov TO, ki so se odzvali na vpoklic.

Napiši komentar tabele.

